







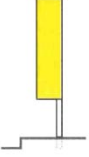








Patente Richiesta: B		Domande: 30, Risposte Esatte: 25, Risposte Errate: 5, Esito Esame: RESPINTO	
	1) Salvo diversa segnalazione, il limite massimo di velocità sulle strade extraurbane principali è di 100 km/h	<input type="checkbox"/>	<input checked="" type="checkbox"/>
	2) Il conducente che intende effettuare l'inversione di marcia su una strada a doppio senso deve azionare la segnalazione luminosa di pericolo	<input type="checkbox"/>	<input checked="" type="checkbox"/>
	3) Su strada extraurbana, chiunque non abbia potuto evitare la caduta o lo spargimento di materie viscide, infiammabili o comunque pericolose deve, tra l'altro, presegnalare la zona con il segnale mobile di pericolo posto anche in mezzo alla carreggiata	<input checked="" type="checkbox"/>	<input checked="" type="checkbox"/>
	4) La revisione della patente di guida può essere disposta quando il titolare circola su un'auto storica senza la prescritta documentazione	<input type="checkbox"/>	<input checked="" type="checkbox"/>
	5) Quando l'assicurazione per la responsabilità civile auto è scaduta di validità si può continuare a usare il veicolo solo per brevi tragitti	<input type="checkbox"/>	<input checked="" type="checkbox"/>
	6) Il segnale raffigurato può essere integrato dal pannello distanziometrico a tre barre rosse	<input checked="" type="checkbox"/>	<input checked="" type="checkbox"/>
	7) Il segnale raffigurato impone ai veicoli che non sono in grado di superare gli 80 km/h di marciare sulla corsia di destra	<input checked="" type="checkbox"/>	<input checked="" type="checkbox"/>
	8) La corsia C rappresentata in figura consente al conducente solo la svolta a destra	<input checked="" type="checkbox"/>	<input checked="" type="checkbox"/>
	9) I pannelli integrativi in figura indicano una intersezione, distinguendo la strada principale dalle strade secondarie	<input checked="" type="checkbox"/>	<input checked="" type="checkbox"/>
	10) Su strade a doppio senso di marcia con due corsie, come in figura, incrociando altri veicoli occorre spostarsi il più vicino possibile al margine destro della carreggiata	<input checked="" type="checkbox"/>	<input checked="" type="checkbox"/>



Patente Richiesta: B	Domande: 30, Risposte Esatte: 25, Risposte Errate: 5, Esito Esame: RESPINTO	
	<p>11) Durante la fermata il conducente può allontanarsi per brevissimo tempo prima di riprendere la marcia</p>	<input checked="" type="checkbox"/> <input checked="" type="checkbox"/>
	<p>12) Nei veicoli che non sono muniti del comando per disabilitare l'airbag dal lato passeggero, il seggiolino per bambini non deve essere sistemato sul sedile anteriore, con lo schienale rivolto verso la strada</p>	<input checked="" type="checkbox"/> <input checked="" type="checkbox"/>
	<p>13) Se un infortunato della strada ha avuto un trauma della gabbia toracica, bisogna farlo stare alzato, per diminuire la fuoriuscita di sangue</p>	<input checked="" type="checkbox"/> <input checked="" type="checkbox"/>
	<p>14) Quando una donna in stato di gravidanza attraversa la carreggiata bisogna darle la precedenza solo se attraversa da sinistra a destra</p>	<input checked="" type="checkbox"/> <input checked="" type="checkbox"/>
	<p>15) Il segnale raffigurato preannuncia una stazione ferroviaria</p>	<input checked="" type="checkbox"/> <input checked="" type="checkbox"/>
	<p>16) La luce verde accesa del semaforo in figura permette ai pedoni l'attraversamento</p>	<input checked="" type="checkbox"/> <input checked="" type="checkbox"/>
	<p>17) In presenza del segnale raffigurato e del semaforo a tre luci abbiamo la precedenza se il semaforo è spento e l'agente del traffico ci ordina di fermarci</p>	<input checked="" type="checkbox"/> <input checked="" type="checkbox"/>
	<p>18) Il delineatore raffigurato divide la carreggiata in corsie</p>	<input checked="" type="checkbox"/> <input checked="" type="checkbox"/>
	<p>19) Quando si marcia in colonna, conviene aumentare la distanza di sicurezza, per evitare tamponamenti a catena</p>	<input checked="" type="checkbox"/> <input checked="" type="checkbox"/>
	<p>20) Il conducente che intende sorpassare deve valutare lo spazio necessario per la manovra anche in relazione alla differenza di velocità tra il proprio veicolo e quello da sorpassare</p>	<input checked="" type="checkbox"/> <input checked="" type="checkbox"/>



Patente Richiesta: B	Domande: 30, Risposte Esatte: 25, Risposte Errate: 5, Esito Esame: RESPINTO	
	<p>21) Il simbolo raffigurato indica il comando per azionare la segnalazione luminosa di pericolo</p>	<input checked="" type="checkbox"/> <input type="checkbox"/>
	<p>22) Se un infortunato della strada ha un'abbondante emorragia esterna, bisogna cercare di arrestare la fuoriuscita del sangue</p>	<input checked="" type="checkbox"/> <input type="checkbox"/>
	<p>23) Il sovraccarico del veicolo può comportare la temporanea inefficienza delle sospensioni</p>	<input checked="" type="checkbox"/> <input type="checkbox"/>
	<p>24) Il segnale raffigurato si può trovare all'inizio di una strada urbana o extraurbana che gode del diritto di precedenza</p>	<input checked="" type="checkbox"/> <input type="checkbox"/>
	<p>25) Il segnale raffigurato indica lavori in corso</p>	<input type="checkbox"/> <input checked="" type="checkbox"/>
	<p>26) La distanza di sicurezza deve essere di almeno 100 metri in caso di nevicata in atto</p>	<input type="checkbox"/> <input checked="" type="checkbox"/>
	<p>27) Nell'incrocio rappresentato nella figura il conducente del veicolo A deve dare la precedenza ai veicoli E e S</p>	<input checked="" type="checkbox"/> <input type="checkbox"/>
	<p>28) Il numero di persone trasportabili sui motocicli è sempre di due, oltre il conducente</p>	<input type="checkbox"/> <input checked="" type="checkbox"/>
	<p>29) I tamponamenti stradali avvengono principalmente per la disattenzione dei conducenti</p>	<input checked="" type="checkbox"/> <input type="checkbox"/>
	<p>30) Nelle curve percorse a forte velocità, lo strisciamento dei pneumatici aumenta la rumorosità del veicolo</p>	<input checked="" type="checkbox"/> <input type="checkbox"/>